
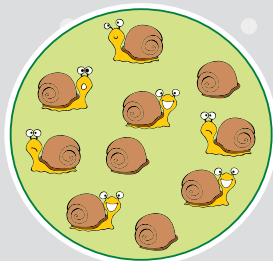

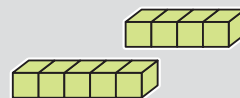








سوالات تشریحی آغازین



۱- عدد مربوط به تعداد درست هر نوع حیوان را به تصویر آن وصل کن.



8





۲- هر ساعت چه زمانی را نشان می‌دهد؟ چند ساعت تا ساعت ۱۲ مانده؟



..... ساعت مانده به ۱۲



..... ساعت مانده به ۱۲



..... ساعت مانده به ۱۲



..... ساعت مانده به ۱۲



..... ساعت مانده به ۱۲



..... ساعت مانده به ۱۲



..... ساعت مانده به ۱۲



..... ساعت مانده به ۱۲

۷

۳- جاهای خالی را با اعداد مناسب پر کنید.

الف) ۴۸ ۵۲ ۵۳

ب) ۴۰ ۵۰ ۸۰

ج) ۱۴ ۱۶ ۱۸ ۲۸


د) ۲۱ ۲۴ ۲۷ ۴۲

ه) ۲۵ ۳۰ ۴۰ ۴۵ ۷۰

و) ۶ ۸ ۹ ۱۳






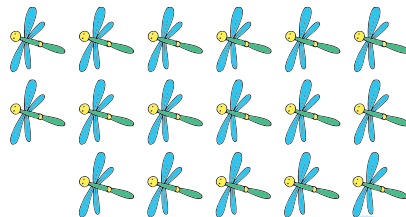

ز) ۱۵ ۱۷ ۱۹ ۲۷ ۳۳

ح) ۳۶ ۳۸ ۴۲ ۴۸ ۵۶





۴- در هر جفت از تصاویر زیر، ابتدا تعداد حیوانات را حدس بزنید، سپس با دسته‌بندی تعداد آنها را به دست آورید و با یکدیگر مقایسه کنید (< یا = یا >).


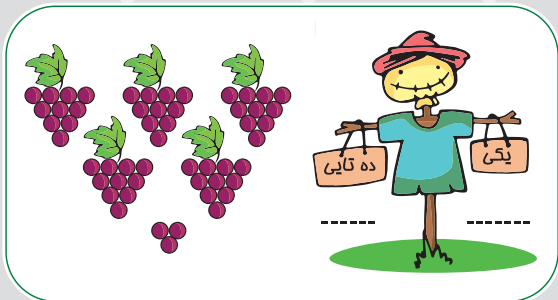







فصل ۱

عدد و رقم

۵- با توجه به شکل‌ها، جدول‌ها را کامل کنید و اعداد به دست آمده را از کوچک به بزرگ بنویسید.



۶- با ارقام ۵ و ۴ و ۳ چند عدد دو رقمی زوج می‌توان نوشت؟

۷- چند عدد دو رقمی می‌توان نوشت که دهگان آن‌ها فرد و یکان آن‌ها کوچک‌تر از ۳ باشد؟



۸- الگوهای زیر را کامل کن.



۹- هر یک از مسئله‌های زیر را به روشی که مشخص شده است، حل کنید.

(الف) سارا ۷ مداد و نرگس ۴ مداد بیش‌تر از او دارد. مجموع مدادهای آن‌ها چندتاست؟ (رسم شکل)

۱۰

(ب) مهرداد دیروز ۸ مسئله حل کرده است. اگر هر روز ۳ مسئله بیش‌تر از روز قبل حل کند، فردا چند مسئله حل می‌کند؟ (استفاده از محور)

(ج) هادی ۱۴ کتاب داستان، ۸ کتاب علمی و ۵ کتاب تاریخی دارد. او در مجموع چند کتاب دارد؟
(به کمک چوب‌خط)

(د) در یک کیسه ۱۷ مهره وجود دارد، ۳ مهره قرمز، ۵ مهره آبی، ۶ مهره زرد و بقیه‌ی مهره‌ها سیاه هستند. در این کیسه چند مهره‌ی سیاه وجود دارد؟ (رسم شکل)